

## 2. SINIF TEMEL DERSLER ÇALIŞMA KAĞIDI

## TÜRKÇE

## UMBA RÜYASINI ARAŞTIRIYOR


Araştırma yapmayı çok seven Umba, yeni bir araştırma yapmak üzere yola koyuldu. Yolculuk boyunca heyecanla araştırabileceği bir konu düşünürken birden aklına rüyasında gördüğü gölge oyunu "Karagöz ve Hacivat" geldi. Acaba Karagöz ve Hacivat kimdi? Bu sorunun cevabını çok merak eden Umba, araştırmasının ilk kısmını tamamlamıştı bile. Kütüphaneye gelir gelmez hızlıca birkaç kitap alıp başladı Hacivat ve Karagöz'ü araştırmaya. Bir kitapta gördüğü şu bilgileri şaşkınlıkla okudu:

*Karagöz ve Hacivat, Bursa'da bulunan Ulucami'nin inşaatı esnasında çalışan iki işçiymiş. Bu ikili inşaat yapımı esnasında birbiri ile sürekli atışmış. Bu atışmalar diğer işçilerinde çok hoşuna gidermiş. Bu şekilde ünlenen ikilinin kuklaları yapılmış. Bu kuklalar bir perde arkasında ışık tutularak karşılıklı konuşturulmuş ve bir oyun haline getirilmiş. Bu oyunun adı da "Gölge Oyunu" olmuş. Gölge oyunu özellikle ramazan aylarında her akşam sergilenirmiş.*

Öğrendiği bilgiler Umba'yı çok mutlu etti. Araştırmasını tamamlayıp eve bir an önce varmak için yola koyuldu.

Şimdi görev sizde!

Aşağıdaki labirenti kullanarak Umba'yı evine ulaştırınız.



Aşağıdaki soruları metne göre cevaplayınız.

1. Umba rüyasında kimleri gördü?

.....

2. Umba'nın araştırmasında edindiği ilk bilgi nedir?

.....

3. Gölge oyunu özellikle ne zaman sergilenirdi?

.....

4. Sizce Umba neden sabırsızlanmış olabilir?

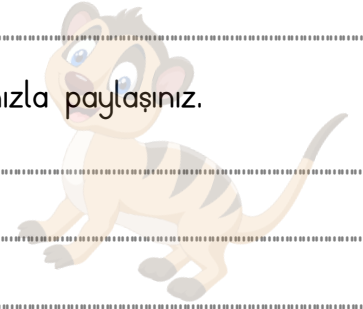

.....

5. Sizlerde bir gölge oyunu örneği araştırıp ailenizle ve arkadaşlarınızla paylaşınız.

.....

.....

.....



### ATASÖZLERİ

Aşağıda verilen atasözlerinden komşuluğun önemini vurgulayan atasözlerini maviye, tutumlu olmanın önemini vurgulayan atasözlerini kırmızıya boyayınız.

Ak akçe kara  
gün içindir.

Hayır dile komşuna, hayır  
gele başına.

Ev alma komşu al.

Ayağını yorganına  
göre uzat.

Damlaya damlaya  
göl olur.

Komşu komşunun külüne muhtaçtır.

## ZAMAN ÖLÇME

Aşağıda verilen boşluklara uygun saatleri yazınız. Boşlukları ortadaki analog saate göre doldurunuz.

- Yarım saat öncesi : \_\_\_\_\_
- 1 saat öncesi: \_\_\_\_\_
- 15 dakika öncesi: \_\_\_\_\_
- 3 saat öncesi: \_\_\_\_\_
- 5 saat öncesi : \_\_\_\_\_
- 1 buçuk saat öncesi: \_\_\_\_\_



- 1 saat sonrası: \_\_\_\_\_
- 15 dakika sonrası: \_\_\_\_\_
- Yarım saat sonrası: \_\_\_\_\_
- 4 saat sonrası: \_\_\_\_\_
- 6 saat sonrası: \_\_\_\_\_
- 2 buçuk saat sonrası: \_\_\_\_\_

## ZAMAN ÖLÇME

Aşağıdaki otobüsler aynı yerden yola çıkarak verilen bilgilere göre varış yerine ulaşmaktadır. Buna göre boşlukları doldurunuz.

OTOBÜSLER	KALKIŞ ZAMANI	SÜRE	VARIŞ ZAMANI
	07.30	1 SAAT	_____
	08.00	_____	11.00
	13.00	2 SAAT 30 DAKİKA	_____
	_____	2 SAAT	17.00

## FARKLI KÜLTÜRLER

Aşağıda verilen ifadeler doğru ise DOĞRU sütunundaki harfi, yanlış ise YANLIŞ sütunundaki harfi işaretleyerek şifreyi çözünüz.

		DOĞRU	YANLIŞ
1	Çeşitli nedenlerle ülkemize yerleşmiş olan farklı kültürden insanlara saygı göstermeliyiz.	S	T
2	Farklı kültürlerden insanlar ülkemizde eğitim göremez.	F	A
3	Türkiye misafirperver bir ülkedir.	Y	C
4	Savaş, eğitim, işsizlik başlıca göç nedenlerindedir.	G	E
5	Farklı ülkelerden gelen insanlarla arkadaşlık kurmamalıyız.	Z	I



1	2	3	4	5

"İnsanların yüzlerinin ve gözlerinin rengi başka başka da olsa gözyaşlarının rengi hep aynıdır."

ÜSTÜN DÖKMEN

## ÜRETİM FAALİYETLERİ

Aşağıdaki boşlukları uygun ifadeler ile doldurunuz.

küçükbaş hayvancılık	Akdeniz	tarım	çiftçi
sanayi	büyükbaş	hayvanların	çiftlik

- Türkiye'de yapılan en yaygın hayvancılık \_\_\_\_\_ tır.
- Geçimini toprağı ekip biçerek sağlayanlara \_\_\_\_\_ denir.
- Toprak üzerinde ürün elde etmek için yapılan çalışmalara \_\_\_\_\_ denir.
- \_\_\_\_\_ etinden, sütünden, yününden ve derisinden yararlanırız.
- İnek, manda, sığır gibi hayvanlar \_\_\_\_\_ hayvanlara örnektir.
- \_\_\_\_\_ ülkemizde Marmara Bölgesi'nin İstanbul ve çevresinde gelişmiş üretim faaliyetidir.
- Portakal, mandalina, limon gibi meyveler ülkemizde en çok \_\_\_\_\_ Bölgesi'nde yetişir.